


Jméno: _____

Učitel: _____

Nástroj: _____


Pololetní test z hudební nauky- 5. ročník

1. Zapiš **půlové noty** do **basového klíče**



c fis ES AIS GES b dis¹


2. Zapiš **kvintakord a jeho obraty**



G: T⁶ H: T⁶₄ A: T⁵ D: T⁶ E: T⁶₄ F: T⁶



3. Co je to **enharmonická záměna**?

Zapiš **noty** a jejich **enharmonickou záměnu (nezapomeň na houslový klíč).**




fisis¹ asas¹ his¹ eis¹ geses¹ ces²

4. Zapiš stupnici H dur a E moll melodickou-**nezapomeň na posuvky k notám, tónický kvintakord, houslový klíč a vyznačení půltónů a hlavních stupňů**



5. Zapiš intervaly



v.3 m.6 č.5 m.7 m.2 č.4
od d¹ e¹ h g¹ a¹ f¹