


Jméno: _____

Učitel: _____

Nástroj: _____

Pololetní test z hudební nauky- 4. ročník

1. Zapiš **půlové** noty v **basovém** klíči



c f ais b es gis dis¹

2. Co je to **stupnice**?


Jaké 3 vlastnosti má stupnice **dur** a jaké **moll**?

DUR	
1.	
2.	
3.	


MOLL	
1.	
2.	
3.	

Jaké **3 druhy stupnic moll** známe? Jaké mají **vlastnosti**?

3. Zapiš stupnici H dur a Es dur- **nezapomeň na houslový klíč, vyznačení půltónů a hlavních stupňů, posuvky k notám a tónický kvintakord (trojzvuk, T⁵)**



4. Napiš intervaly do not



v.3 č.5 č.4 v.6 č.8 v.7
od d¹ h f¹ a c¹ e¹