


HUDEBNÍ NAUKA 3. ROČNÍK

1) Durové stupnice:

napiš kolik (číslo) má stupnice # nebo b


A , Ges , B , H , D

2) Napiš stupnici E dur a vyznač v ní půltóny
(nezapomeň na předznamenání)



3) Vyjmenuj všechny durové stupnice s křížky i béčky, jak jdou za sebou

4) Zapiš stupnici As dur a vyznač v ní půltóny:

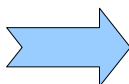


5) Dynamická označení, doplň zbývající dvě označení (dynamika má celkem tři označení – italský název, český název a zkratku)

mezzoforte

pp


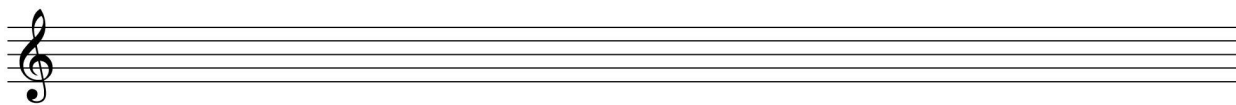
zesilovat



6) Vyjmenuj dechové nástroje dřevěné a žest'ové:

.....

7) Napiš předznamenání všech durových stupnic do notové osnovy:



8) Rytmus: doplň do prázdných taktů a použij i následující hodnoty a pomlky



(triola má hodnotu jako nota čtvrt'ová)